




**ŠKOLA**  
**VOŽNJE**

# PROVJERI SVOJE ZNANJE!



**1. Za svoje kretanje kao pješak obvezno ćeš koristiti:**

- a) kolnik
- b) nogostup
- c) biciklističku stazu ili traku

**2. Ako se kao pješak krećeš cestom izvan naselja, u pravilu kretat ćeš se:**

- a) uz lijevi rub kolnika
- b) uz desni rub kolnika

**3. Ako se sa svojim prijateljima krećeš cestom izvan naselja, kretat ćete se:**

- a) jedan pored drugoga
- b) jedan iza drugoga
- c) najviše po troje u jednom redu

**4. Na mjestu gdje nema obilježenog pješackog prijelaza kolnik ćeš kao pješak, uvijek prelaziti:**

- a) najduljim putem
- b) najkraćim putem

**5. Kada prelaziš kolnik kao pješak, obvezno ćeš koristiti:**

- a) obilježenu biciklističku traku
- b) obilježenu prometnu traku
- c) obilježeni pješački prijelaz

**6. Na svom biciklu prevoziš teret smješten na nosaču tereta. Teret ne smije biti:**

- a) širi od 80 cm sa svake strane bicikla
- b) širi od 50 cm sa svake strane bicikla
- c) širi od širine upravljača bicikla

**7. U prometu na cesti smiješ vući prikolicu:**

- a) na dva kotača
- b) na četiri kotača

**8. U prometu na cesti, prikolica koju vučeš svojim biciklom ne smije biti šira:**

- a) od 100 cm
- b) od 80 cm
- c) od 90 cm

**9. Neispravan bicikl u prometu na cesti:**

- a) smiješ vući drugim vozilom
- b) moraš gurati krećući se kao pješak
- c) prevoziti na drugom vozilu

**10. Put kočenja tvog bicikla ovisi:**

- a) o stanju kolnika
- b) o brzini kojom voziš
- c) o uvjetima vidljivosti
- d) o ispravnosti svjetala na biciklu
- e) o stanju guma na tvom biciklu

**11. Na biciklu uvijek mora biti ispravna:**

- a) samo kočnica zadnjeg kotača
- b) samo kočnica prednjeg kotača
- c) kočnica prednjeg i zadnjeg kotača



**12. Dovoljan razmak između tvog bicikla i vozila koje se kreće ispred tebe ovisi o:**

- a) brzini kojom voziš
- b) o stanju kolnika
- c) o boji tvoje odjeće

**13. Razmak sa strane bitan je prilikom:**

- a) mimoilaženja
- b) pretjecanja
- c) parkiranja

**14. Na koje opasnosti moraš računati u situaciji kao na slici?**



- a) na iznenadnu pojavu vozila iz suprotnog smjera
- b) na pojavu pješaka na pješačkom prijelazu
- c) na pojavu vozila iz bočne ulice
- d) na naglo uključivanje parkiranog vozila u promet

**15. Na koje opasnosti moraš računati u situaciji kao na slici?**



- a) nailazak vozila iz suprotnog smjera
- b) iznenadnu pojavu pješaka između parkiranih vozila
- c) naglo uključivanje parkiranog vozila u promet

**16. Kako ćeš postupiti u situaciji kao na slici?**

- a) povećati brzinu vožnje
- b) smanjiti brzinu vožnje
- c) biti pripravan za naglo kočenje



17. **Trokut kao oblik prometnog znaka određuje:**

- a) zabranu kretanja vozila
- b) opasnost za kretanje vozila
- c) obavijest za kretanje vozila

18. **Koji ti od prometnih znakova zabranjuje daljnju vožnju biciklom?**



a)



b)



c)

19.

**Kako ćeš postupiti nailaskom na ovaj prometni znak?**

- a) sići s bicikla i nastaviti kretanje kao pješak
- b) nastaviti vožnju brzinom hoda pješaka
- c) okrenuti bicikl i vratiti se u smjeru iz kojeg dolaziš
- d) posebnu pozornost obratiti na djecu i pješake



**20. Krug kao oblik prometnog znaka određuje:**

- a) zabranu kretanja vozila
- b) obvezu kretanja vozila
- c) opasnost za kretanje vozila

**21. Kvadrat ili pravokutnik kao oblik prometnog znaka određuje:**

- a) opasnost
- b) zabranu
- c) obavijest

**22. Kada u prometu na cesti upravljaš biciklom, preporuča ti se nošenje:**

- a) laganih papuča
- b) kacige za bicikliste
- c) tamne odjeće
- d) naočala za bicikliste
- e) rukavica za bicikliste

**23. Gume na tvom biciklu moraju biti ispravno napumpane i bez oštećenja radi:**

- a) lijepog izgleda bicikla
- b) udobnosti vožnje
- c) sigurnosti vožnje

**24. Bijelo svjetlo mora se nalaziti:**

- a) s prednje strane bicikla
- b) sa stražnje strane bicikla
- c) s bočnih strana bicikla

**25. Crveno svjetlo mora se nalaziti:**

- a) sa stražnje strane bicikla
- b) s prednje strane bicikla



**26. Crveni katadiopter mora se nalaziti:**

- a) na pedalama bicikla
- b) na kotačima bicikla
- c) na stražnjoj strani bicikla
- d) na prednjoj strani bicikla


**27. Na pedalama bicikla moraju se nalaziti:**

- a) crveni katadiopteri
- b) žuti katadiopteri
- c) narandžasti katadiopteri

- 28. Biciklom ne smiješ sudjelovati u prometu na:**
- a) gradskim ulicama
  - b) autocesti
  - c) biciklističkim stazama i trakama
  - d) cesti namijenjenoj isključivo za promet motornih vozila

- 29. Za vrijeme vožnje bicikla ne smiješ:**
- a) okretom glave provjeravati iza sebe
  - b) skidati obje ruke s upravljača
  - c) odručenjem ruke najaviti svoju radnju biciklom
  - d) pridržavati se za drugo vozilo
  - e) ugrožavati druge sudionike u prometu

**30. Nakon kojih prometnih znakova možeš nastaviti kretanje kao pješak gurajući bicikl?**



a)



b)



c)



d)

**31. Biciklističke staze ili trake namijenjene su za kretanje:**

- a) pješaka
- b) motocikla
- c) bicikla

**32. Na biciklističkoj stazi ili traci namijenjenoj za dvosmjerni promet bicikla, svojim biciklom vozit ćeš se:**

- a) desnom stranom u smjeru kretanja
- b) lijevom stranom u smjeru kretanja
- c) sredinom biciklističke staze ili trake

**33. Prije obavljanja neke radnje biciklom u prometu moraš provjeriti uvjete u prometu da bi se:**

- a) radnja izvela na siguran način
- b) radnja izvela uz što veću brzinu
- c) radnja obavila bez ometanja drugih
- d) radnjom izbjeglo crveno svjetlo na semaforu

**34. Da se biciklom uključiš u promet na cesti moraš prijeći nogostup. Nogostup ćeš prijeći:**

- a) vozeći bicikl između pješaka
- b) hodajući i gurajući bicikl
- c) vozeći bicikl što većom brzinom

**35. Koji je redosljed radnji prije uključivanja u promet:**

- a) provjera preko ramena pa najava odručenjem ruke
- b) odručenje ruke pa provjera preko ramena
- c) provjera preko ramena i bez najave uključivanja u promet

**36. Vozeći bicikl u prometu zabranjeno ti je:**

- a) skretanje ulijevo
- b) voziti u pravcu
- c) krivudanje po cesti
- d) slalom vožnja između vozila
- e) prestrojavanje iz jedne u drugu prometnu traku

**37. Ako prometom na raskrižju upravlja policajac, njegovi znakovi:**


- a) isključuju značenje svjetala u prometu
- b) isključuju značenje prometnih znakova postavljenih na raskrižju
- c) isključuju pravila prednosti prolaska

**38. Žuto treptavo svjetlo na semaforu upozorava te na:**

- a) skoru pojavu crvenog svjetla
- b) povećani oprez
- c) zabranu prolaska kroz raskrižje

**39. Približavaš se raskrižju kao na slici. Kako ćeš postupiti?**

- a) zaustaviti bicikl zbog upaljenog crvenog svjetla na semaforu
- b) zaustaviti bicikl zbog prometnog znaka "STOP"
- c) nastaviti vožnju jer mi to dopušta položaj policajca na raskrižju





**40. Žuto svjetlo upaljeno istovremeno sa crvenim svjetlom najavljuje:**

- a) skoru pojavu zelenog svjetla i prestanak zabrane prolaska kroz raskrižje
- b) skoro paljenje crvenog svjetla
- c) slobodan prolazak kroz raskrižje



**41. Kako ćeš postupiti na raskrižju na kojem se nalazi prometna signalizacija kao na slici?**

- a) zaustaviti bicikl zbog znaka "STOP"
- b) nastaviti vožnju uz povećani oprez
- c) nastaviti vožnju skretanjem ulijevo
- d) nastaviti vožnju ravno ili skrenuti udesno

**42. Kako ćeš postupiti u situaciji kao na slici?**

- a) propustiti vozilo koje nailazi s desne strane
- b) propustiti vozilo koje mi dolazi ususret i zadržava smjer kretanja
- c) voziti prije oba osobna automobila



**43. Koje ćeš sve radnje učiniti nailaskom na prometni znak kao na slici?**

- a) usporiti vožnju
- b) obvezno se zaustaviti
- c) spustiti jednu nogu na kolnik
- d) propustiti sva vozila koja se kreću cestom na koju se uključuješ
- e) propustiti isključivo vozila koja ti nailaze s tvoje desne strane



**44. Na što te upozorava prometni znak kao na slici?**

- a) da voziš cestom s pravom prednosti prolaska
- b) da nailaziš na cestu s pravom prednosti prolaska
- c) na obvezu propuštanja svih vozila koja se kreću cestom na koju se uključuješ
- d) na obvezno zaustavljanje



**45. Kako ćeš postupiti u situaciji kao na slici?**

- a) voziti prvi kroz raskrižje
- b) voziti zadnji kroz raskrižje
- c) propustiti oba osobna automobila
- d) voziti prije plavog osobnog automobila



**46. Približavaš se raskrižju kao na slici. Kako ćeš postupiti?**

- a) voziti prvi kroz raskrižje
- b) voziti zadnji kroz raskrižje



**47. Približavaš se raskrižju kao na slici. Kako ćeš postupiti?**

- a) voziti prije vozila policije jer vozim ulicom s pravom prednosti prolaska
- b) propustiti vozilo policije






**48. Prije skretanja udesno obvezno se moraš kretati:**

- a) uz središnju razdjelnu crtu na kolniku
- b) sredinom prometne trake
- c) uz desni rub prometne trake

**49. Upiši broj sa slike koji odgovara radnji koju moraš učiniti prilikom skretanja biciklom ulijevo.**

- najava radnje odručenjem lijeve ruke
- zaustavljanje i provjera prometa na raskrižju
- zauzimanje položaja uz desni rub kolnika
- provjera prometa iza okretom glave preko lijevog ramena
- prestrojavanje prema središnjoj razdjelnoj crti
- ponovno odručenje lijeve ruke i najava skretanja
- provjera prometa iza prije samog skretanja ulijevo
- skretanje ulijevo uz vožnju pravilnim lukom



**50. Kada se u prometu na cesti sa svojim prijateljima voziš biciklom, vozit ćete se:**

- a) sredinom prometne trake u smjeru kretanja jedan iza drugoga
- b) desnom stranom prometne trake u smjeru kretanja jedan pored drugoga
- c) desnom stranom prometne trake u smjeru kretanja jedan iza drugoga


**51. Na prijelazu ceste preko željezničke pruge obvezno moraš zaustaviti bicikl:**

- a) ako se na svjetlosnom prometnom znaku naizmjenično pale crvena svjetla
- b) ako su se branici ili polubranici počeli spuštati
- c) ako je prijelaz ceste preko željezničke pruge nezaštićen

**52. Koji ti od prometnih znakova daje prednost prolaska prilikom mimoilaženja s vozilom iz suprotnog smjera?**



a)



b)



c)

**53. Prilikom obilaženja osobitu pozornost moraš obratiti na:**

- a) bočni razmak od prepreke koju obilaziš
- b) brzinu vozila koje obilaziš
- c) vozila koja nailaze iz suprotnog smjera
- d) vozila koja se kreću iza tebe

**54. Kad pretječeš neko vozilo potreban ti je:**

- a) kraći put nego kod obilaženja
- b) duži put nego kod obilaženja

**55. Svoj bicikl parkirat ćeš na:**

- a) obilježenom pješačkom prijelazu
- b) nosačima za ostavljanje bicikla
- c) biciklističkoj stazi ili traci

**56. Svjetla na biciklu moraju biti upaljena:**

- a) uvijek za vrijeme vožnje biciklom u prometu na cesti
- b) za vrijeme vožnje noću
- c) za vrijeme vožnje u uvjetima smanjene vidljivosti

- 57. Vozeći bicikl, obilježenom pješačkom prijelazu moraš se približavati:**
- a) smanjenom brzinom
  - b) povećanom brzinom

**58. Kako ćeš postupiti u situaciji kao na slici u skladu s načelima kulturnog ponašanja u prometu?**

- a) uz povećanje brzine proći između pješaka
- b) smanjiti brzinu i omogućiti pješacima da prijeđu preko kolnika
- c) smanjenom brzinom voziti između pješaka

